

ОБРАЗЕЦ билета по ГЕОГРАФИИ

Инструкция по выполнению работы

На выполнение экзаменационной работы по географии отводится 3 часа (180 минут). Работа состоит из заданий, которые разделены на четыре части.

Часть 1. Используя карту необходимо составить описание по предложенному плану. Задание оценивается в 30 баллов.

Часть 2 содержит задания (2 – 11). В этой части используются задания на установление соответствия или последовательности, на выбор одного или нескольких правильных ответов из предложенных, а также задания, в которых требуется самостоятельно записать правильный ответ. 2. Общее количество баллов за задания этой части -30

Часть 3 включает 1 задание. В этом задании необходимо по описанию определить субъект Российской Федерации. Задание оценивается в 10 баллов

В 4 части 3 задания. В заданиях 13– 15, требуется записать полный ответ на поставленный вопрос. Общее количество баллов за задания этой части -30

Внимательно прочитайте каждое задание и предлагаемые варианты ответа, если они имеются. Отвечайте только после того, как вы поняли вопрос и проанализировали все варианты ответа.

Выполняйте задания в том порядке, в котором они даны. Если какое-то задание вызывает у вас затруднение, пропустите его и постарайтесь выполнить те, в ответах на которые вы уверены. К пропущенным заданиям вы можете вернуться, если у вас останется время.

Желаем успеха!

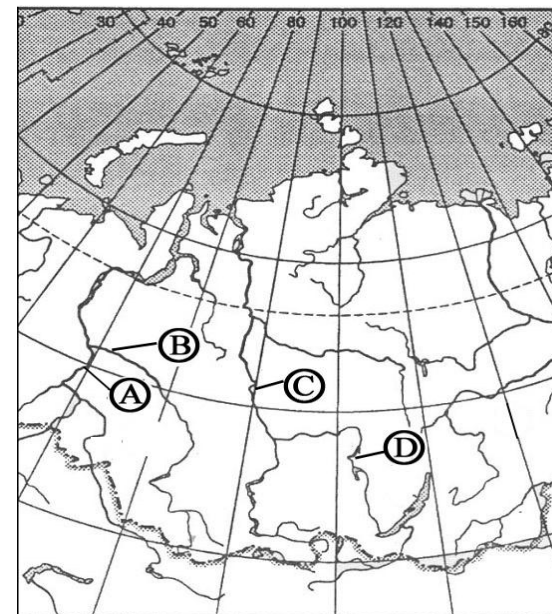
1. Источники географической информации.

Работа с картой. Используется топографическая карта

Используя условные знаки и масштаб топографической карты, дать подробную характеристику местности, отображенной на карте. Опишите местность по плану:

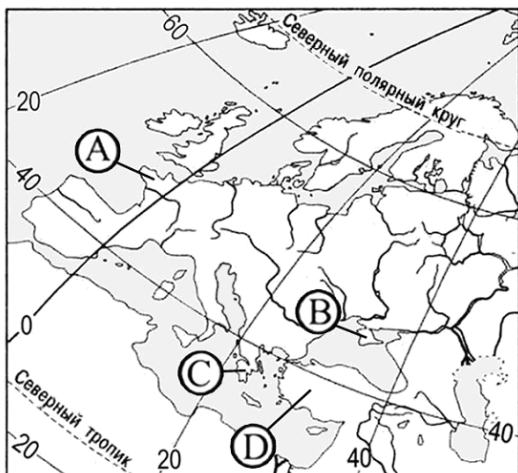
1. Месторасположение участка: какие окрестности населенный пункта отражены; географические координаты этого пункта.
2. Рельеф поверхности: равнинная (плоская, холмистая) или горный участок, общий ее наклон, высокие и низкие абсолютные высоты, отдельные элементы рельефа и их характеристика.
3. Внутренние воды территории: реки, их притоки, направление и скорость течения, наличие озер, водохранилищ, прудов, болот, источников.
4. Природный растительный покров: лесные массивы, их размещение, породный состав; кустарники, отдельные деревья, луга.
5. Перечень и размещение промышленных, сельскохозяйственных и социально-культурных объектов.
6. Пути сообщения: основные дороги, их направление.
7. Описать путь передвижения от станции Добрино до деревни Воронино.

2. Какой буквой на фрагменте карты России обозначена река Енисей?



Правильный ответ _____

3. Какой буквой на карте Европы обозначен Крымский полуостров?



Правильный ответ _____

4. На какой из перечисленных территорий России наиболее вероятны землетрясения?

- 1) Кольский полуостров
- 2) острова Новая Земля
- 3) остров Сахалин
- 4) полуостров Таймыр

Правильный ответ _____

5. Какой из народов России является наиболее крупным по численности?

- 1) якуты
- 2) карелы
- 3) татары
- 4) ханты

Правильный ответ _____

6. Какой из перечисленных городов является наиболее крупным по численности населения?

- 1) Самара
- 2) Санкт-Петербург
- 3) Казань
- 4) Ростов-на-Дону

Правильный ответ _____

7. Неблагоприятное воздействие на природу оказывает

- 1) проведение снегозадержания на полях
- 2) создание лесополос в степной зоне
- 3) осушение болот в верховьях рек
- 4) террасирование склонов

Правильный ответ _____

8. Какое из перечисленных государств находится в Африке?

- 1) Сирия
- 2) Непал
- 3) Кения
- 4) Перу

Правильный ответ _____

9. Установите соответствие между каждым из природных ресурсов и видом, к которому он относится.

ПРИРОДНЫЕ
РЕСУРСЫ

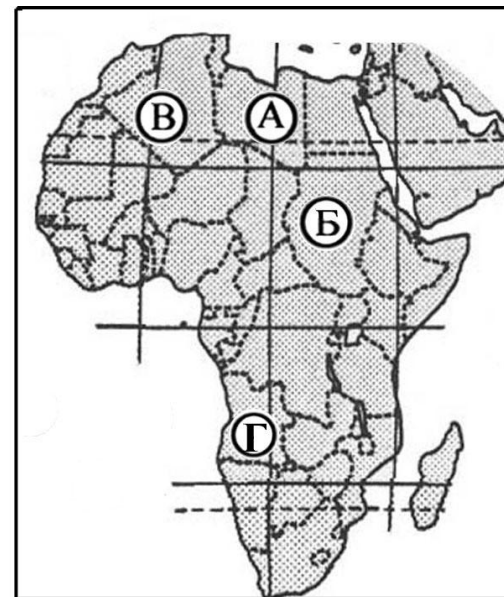
ВИДЫ ПРИРОДНЫХ РЕСУРСОВ

- | | |
|---------------------|-------------------------------|
| 1) лесные | А) неисчерпаемые |
| 2) почвенные | Б) исчерпаемые возобновимые |
| 3) руды металлов | В) исчерпаемые невозобновимые |
| 4) энергия приливов | |

Запишите в таблицу буквы, соответствующие выбранным ответам.

1	2	3	4

10. Установите соответствие между субъектом Российской Федерации и буквой, которой он обозначен на фрагменте политико-административной карты страны.



СУБЪЕКТ РФ

БУКВА

- 1) Псковская область
- 2) Мурманская область
- 3) Оренбургская область

- А) А
- Б) Б
- В) В
- Г) Г

Запишите в таблицу буквы, соответствующие выбранным ответам.

1	2	3

11. Установите соответствие между страной и буквой, которой она обозначена на политической карте Африки.

СТРАНА

БУКВА

- 1) Судан
- 2) Ангола

- А) А
- Б) Б

- 3) Алжир
- В) В
- Г) Г

Запишите в таблицу буквы, соответствующие выбранным ответам.

1	2	3

12. Определите регион России по его краткому описанию.

- 1. Эта область имеет выгодное ЭГП. На юге она граничит с одной из крупнейших стран СНГ, с которой у России сложились добрососедские отношения. Через область проходит Транссибирская железнодорожная магистраль. Областной центр – город миллионер, хотя и не является самым крупным городом в своем экономическом районе. В нём сложился мощный промышленный узел, основу которого составляют предприятия черной металлургии, машиностроения, нефтепереработки, нефтехимии, легкой и пищевой промышленности.

Ответ: _____ область.

